

Единый государственный экзамен по ИСТОРИИ

Демонстрационный вариант контрольных измерительных материалов единого государственного экзамена 2023 года по ИСТОРИИ

подготовлен федеральным государственным бюджетным
научным учреждением
«ФЕДЕРАЛЬНЫЙ ИНСТИТУТ ПЕДАГОГИЧЕСКИХ ИЗМЕРЕНИЙ»

Единый государственный экзамен по ИСТОРИИ

Пояснения к демонстрационному варианту контрольных измерительных материалов единого государственного экзамена 2023 года по ИСТОРИИ

При ознакомлении с демонстрационным вариантом контрольных измерительных материалов (КИМ) единого государственного экзамена (ЕГЭ) 2023 г. следует иметь в виду, что задания, включённые в него, не отражают всех элементов содержания, которые будут проверяться с помощью вариантов КИМ в 2023 г. Полный перечень элементов содержания, которые могут контролироваться на едином государственном экзамене 2023 г., приведён в кодификаторе элементов содержания и требований к уровню подготовки выпускников образовательных организаций для проведения единого государственного экзамена 2023 г. по истории.



В демонстрационном варианте представлены конкретные примеры заданий, не исчерпывающие всего многообразия возможных формулировок заданий на каждой позиции варианта экзаменационной работы.

Назначение демонстрационного варианта заключается в том, чтобы дать возможность любому участнику ЕГЭ и широкой общественности составить представление о структуре будущих КИМ, количестве заданий, об их форме и уровне сложности.

Приведённые критерии оценки выполнения заданий с развёрнутым ответом, включённые в этот вариант, дают представление о требованиях к полноте и правильности записи развёрнутого ответа.

Эти сведения позволяют выпускникам выработать стратегию подготовки к ЕГЭ в 2023 г.

**Демонстрационный вариант
контрольных измерительных материалов
единого государственного экзамена 2023 года
по ИСТОРИИ**

Инструкция по выполнению работы

Экзаменационная работа состоит из двух частей, включающих в себя 21 задание. Часть 1 содержит 12 заданий, часть 2 содержит 9 заданий.

На выполнение экзаменационной работы по истории отводится 3 часа 30 минут (210 минут).

Ответы к заданиям 1–12 записываются по приведённым ниже образцам в виде последовательности цифр или слова (словосочетания). Ответ запишите в поле ответа в тексте работы, а затем перенесите в бланк ответов № 1.

КИМ

Ответ:

А	Б	В	Г
3	1	4	2

Бланк

3	1	4	2																
---	---	---	---	--	--	--	--	--	--	--	--	--	--	--	--	--	--	--	--

Ответ: НИКОЛАЙ ВТОРОЙ.

Н	И	К	О	Л	А	Й	В	Т	О	Р	О	Й							
---	---	---	---	---	---	---	---	---	---	---	---	---	--	--	--	--	--	--	--

Ответ:

1	4	5
---	---	---

1	4	5																	
---	---	---	--	--	--	--	--	--	--	--	--	--	--	--	--	--	--	--	--

Задания части 2 (13–21) требуют развёрнутого ответа. В бланке ответов № 2 укажите номер задания и запишите ответ к нему.

Все бланки ЕГЭ заполняются яркими чёрными чернилами. Допускается использование гелевой или капиллярной ручки.

При выполнении заданий можно пользоваться черновиком. **Записи в черновике, а также в тексте контрольных измерительных материалов не учитываются при оценивании работы.**

Баллы, полученные Вами за выполненные задания, суммируются. Постарайтесь выполнить как можно больше заданий и набрать наибольшее количество баллов.

После завершения работы проверьте, чтобы ответ на каждое задание в бланках ответов № 1 и № 2 был записан под правильным номером.

Желаем успеха!

Часть 1

Ответом к заданиям 1–12 является последовательность цифр или слово (словосочетание). Сначала укажите ответы в тексте работы, а затем перенесите их в БЛАНК ОТВЕТОВ № 1 справа от номера соответствующего задания, начиная с первой клеточки, без пробелов, запятых и других дополнительных символов. Каждую цифру или букву пишите в отдельной клеточке в соответствии с приведёнными в бланке образцами. Имена российских государей следует писать только буквами (например: НиколайВторой).

- 1 Установите соответствие между событиями и годами: к каждой позиции первого столбца подберите соответствующую позицию из второго столбца.

СОБЫТИЯ	ГОДЫ
А) первое упоминание Москвы в летописи	1) 988 г.
Б) Карибский кризис	2) 1147 г.
В) танковое сражение под Прохоровкой	3) 1662 г.
Г) Медный бунт	4) 1941 г.
	5) 1943 г.
	6) 1962 г.

Запишите в таблицу выбранные цифры под соответствующими буквами.

Ответ:

А	Б	В	Г

- 2 Расположите в хронологической последовательности исторические события. Запишите цифры, которыми обозначены исторические события, в правильной последовательности в таблицу.

- 1) Крымская война
- 2) реформа патриарха Никона
- 3) падение Византийской империи

Ответ:

--	--	--

3 Установите соответствие между процессами (явлениями, событиями) и фактами, относящимися к этим процессам (явлениям, событиям): к каждой позиции первого столбца подберите соответствующую позицию из второго столбца.

**ПРОЦЕССЫ
(ЯВЛЕНИЯ, СОБЫТИЯ)**

- А) формирование и развитие законодательства Древнерусского государства
- Б) реформы Избранной рады
- В) проведение политики «просвещённого абсолютизма» в России
- Г) первые революционные преобразования большевиков

ФАКТЫ

- 1) созыв Уложенной комиссии
- 2) издание Судебника Ивана III
- 3) созыв первого Земского собора
- 4) принятие Декрета о земле
- 5) принятие Русской Правды
- 6) создание Временного правительства

Запишите в таблицу выбранные цифры под соответствующими буквами.

Ответ:

А	Б	В	Г

4 Заполните пустые ячейки таблицы, используя приведённый ниже список пропущенных элементов: для каждого пропуска, обозначенного буквой, выберите номер нужного элемента.

Географический объект	Событие (явление, процесс)	Время, когда произошло событие (явление, процесс)
Нижний Новгород	_____ (А)	_____ (Б)
_____ (В)	Строительство Транссибирской магистрали	_____ (Г)
Архангелогородская губерния	_____ (Д)	1710-е гг.
_____ (Е)	Противостояние Красной армии и Добровольческой армии генерала А.И. Деникина	1910-е гг.

Пропущенные элементы:

- 1) Псков
- 2) первые годы жизни М.В. Ломоносова
- 3) 1890-е гг.
- 4) 1610-е гг.
- 5) Омск
- 6) Медный бунт
- 7) Екатеринодар (Краснодар)
- 8) формирование Второго народного (земского) ополчения
- 9) 1650-е гг.

Запишите в таблицу выбранные цифры под соответствующими буквами.

Ответ:

А	Б	В	Г	Д	Е

- 5 Установите соответствие между событиями и участниками этих событий: к каждой позиции первого столбца подберите соответствующую позицию из второго столбца.

СОБЫТИЯ

- А) Ледовое побоище
Б) Первая мировая война
В) Полтавская битва
Г) Московская битва

УЧАСТНИКИ

- 1) М.Д. Скобелев
2) Андрей Боголюбский
3) А.А. Брусилов
4) Александр Невский
5) Б.П. Шереметев
6) В.В. Талалихин

Запишите в таблицу выбранные цифры под соответствующими буквами.

Ответ:

А	Б	В	Г

- 6 Прочтите отрывок из телеграммы военачальника.
«Все отлично сознавали, что при создавшейся обстановке и при фактическом руководстве и направлении внутренней политики безответственными общественными организациями, а также в условиях громадного разлагающего влияния этих организаций на массу армии последнюю воссоздать не удастся, а наоборот, армия как таковая должна развалиться через два-три месяца. И тогда Россия должна будет заключить позорный сепаратный мир, последствия которого были бы для России ужасны. Правительство принимало полумеры, которые, ничего не поправляя, лишь затягивали агонию, и, спасая революцию, не спасало Россию. Между тем завоевания революции можно было спасти лишь путём спасения России, а для этого прежде всего необходимо создать действительную сильную власть и оздоровить тыл. Генерал Корнилов предъявил ряд требований, проведение коих в жизнь затягивалось. При таких условиях генерал Корнилов, не преследуя никаких личных честолюбивых замыслов и опираясь на ясно выраженное сознание всей здоровой части общества и армии, требовавшее скорейшего создания крепкой власти для спасения Родины, а с ней и завоеваний революции, считал необходимыми более решительные меры, кои обеспечили бы водворение порядка в стране...»

Используя отрывок и знания по истории, выберите в приведённом списке верные суждения.

Запишите цифры, под которыми они указаны.

- 1) Описанные в телеграмме события произошли в 1916 г.
- 2) Правительство, о котором идёт речь в телеграмме, называлось СНК.
- 3) Автор телеграммы – сторонник заключения сепаратного мира с Германией.
- 4) Автор телеграммы поддерживал действия генерала Корнилова.
- 5) Большевики поддерживали действия генерала Корнилова.
- 6) «Решительные меры» генерала Корнилова, которые упомянуты в телеграмме, не были осуществлены.

Ответ: _____.

- 7 Установите соответствие между памятниками культуры и их краткими характеристиками: к каждой позиции первого столбца подберите соответствующую позицию из второго столбца.

ПАМЯТНИКИ КУЛЬТУРЫ

- А) «Слово о полку Игореве»
 Б) «Домострой»
 В) картина «Боярыня Морозова»
 Г) роман «Тихий Дон»

ХАРАКТЕРИСТИКИ

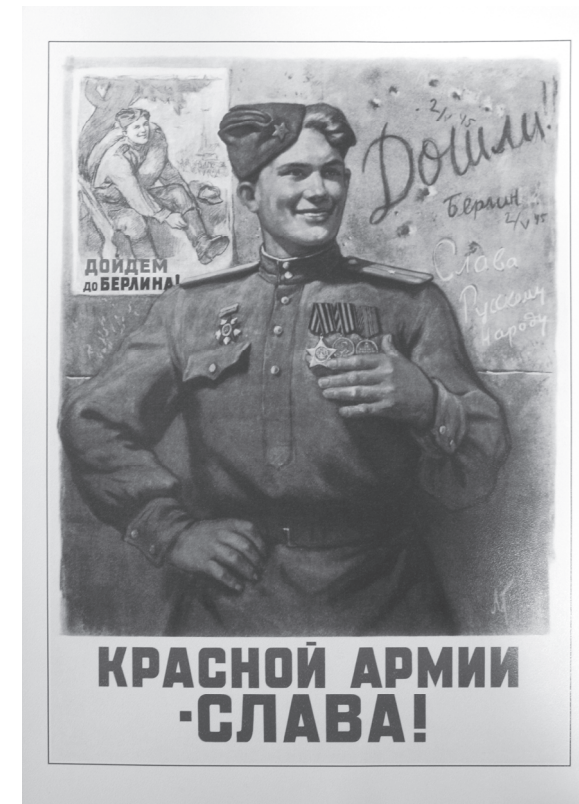
- 1) Автор – И.Е. Репин.
 2) Произведение было написано в период руководства СССР Л.И. Брежнева.
 3) В создании памятника культуры принимал участие священник Сильвестр.
 4) Описываемые события произошли в XII в.
 5) Автору была присуждена Нобелевская премия.
 6) Сюжет иллюстрирует события церковного раскола.

Запишите в таблицу выбранные цифры под соответствующими буквами.

Ответ:

А	Б	В	Г

- 8 Рассмотрите изображение и выполните задание.



Заполните пропуск в предложении: «Данный плакат посвящён событиям тысяча девятьсот _____ года». Ответ запишите словом (сочетанием слов).

Ответ: _____.

Рассмотрите схему и выполните задания 9–12.



9 Укажите век, когда произошли события, обозначенные на схеме стрелками. Ответ запишите словом.
 Ответ: _____.

10 Укажите имя князя, походы которого обозначены в легенде схемы цифрой «1».

Ответ: _____.

11 Прочтите текст о событиях, отражённых на схеме, и, используя схему, укажите название города, которое дважды пропущено в этом тексте.
 «Князь взял столицу Хазарского каганата в дельте реки Волги. После этой победы он продолжил поход, так как у хазар было ещё несколько крупных городов. Князь повёл дружины по берегу Каспийского моря на юг, к старой столице Хазарского каганата – _____. Это был крупный город, в котором правил монарх, имевший своё войско. Поход на этот город был скоротечен. Неприятельское войско было разгромлено и рассеяно по окрестным горам, _____ заняли без боя. Дальше на юг киевский князь не пошёл».

Ответ: _____.

12 Какие суждения, относящиеся к схеме, являются верными? Запишите цифры, под которыми они указаны.

- 1) Цифрой «5» на схеме обозначен город Новгород.
- 2) В ходе событий, обозначенных на схеме стрелками, русское войско взяло город Перемышль.
- 3) В городе, обозначенном на схеме цифрой «6», согласно «Повести временных лет» принял крещение киевский князь Владимир.
- 4) Цифрой «3» на схеме обозначен торговый путь «из варяг в греки».
- 5) Цифрой «4» на схеме обозначен город Кашлык.
- 6) Киевский князь Олег совершил поход, обозначенный в легенде схемы цифрой «2».

Ответ: _____.



Не забудьте перенести все ответы в бланк ответов № 1 в соответствии с инструкцией по выполнению работы. Проверьте, чтобы каждый ответ был записан в строке с номером соответствующего задания.

Часть 2

Для записи ответов на задания этой части (13–21) используйте БЛАНК ОТВЕТОВ № 2. Запишите сначала номер задания (13, 14 и т.д.), а затем развёрнутый ответ на него. Ответы записывайте чётко и разборчиво.

Прочтите отрывок из исторического источника и кратко ответьте на вопросы 13 и 14. Ответы предполагают использование информации из источника, а также применение исторических знаний по курсу истории соответствующего периода.

Из послания российского монарха.

«Когда же мы Божьей волей с крестоносной хоругвью всего православного христианского воинства ради защиты православных христиан двинулись на Казань, и одержали победу над Казанью, и со всем войском невредимые возвращались восвояси, что могу вспомнить о добре, сделанном нам людьми, которых ты называешь мучениками? А вот что: как пленника, посадив в судно, везли с малым числом людей сквозь безбожную и неверную землю! Если бы рука Всевышнего не защитила меня, смиренного, наверняка бы я жизни лишился.

Когда же вернулись мы в царствующий град Москву, Бог дал нам тогда наследника – сына Дмитрия; когда же, немного времени спустя, я, как бывает с людьми, сильно занемог, то те, кого ты называешь доброжелателями, с попом Сильвестром и вашим начальником Алексеем Адашевым решили, что мы уже в небытии и, забыв наши благодеяния, а того более, души свои и присягу нашему отцу и нам – не искать себе иного государя, кроме наших детей, решили посадить на престол нашего отдалённого родственника князя Владимира, а младенца нашего хотели погубить, подобно Ироду...

Когда же мы, по Божью милосердию, всё узнали и полностью уразумели и замысел этот рассыпался в прах, поп Сильвестр и Алексей Адашев и после этого не перестали жесточайше притеснять нас и давать злые советы, под разными предложениями изгоняли наших доброжелателей, во всём потакали князю Владимиру, преследовали лютой ненавистью нашу царицу Анастасию и уподобляли её всем нечестивым царицам, а про детей наших и вспомнить не желали.

А после этого собака и давний изменник, князь Семён Ростовский, который был принят нами в Думу не за свои достоинства, а по нашей милости, изменнически выдал наши замыслы литовским послам, пану Станиславу Довоине с товарищами, и поносил перед ними нас, нашу царицу и наших детей...»

13 Назовите автора данного документа. Укажите век, в котором он жил. Укажите его бывшего сподвижника, переписка с которым считается выдающимся примером публицистики той эпохи.


14 Какие обвинения автор выдвигает в адрес своих приближённых в данном документе? Укажите любые три обвинения. При ответе избегайте цитирования избыточного текста, не содержащего положений, которые должны быть приведены по условию задания.

Рассмотрите изображение и выполните задания 15, 16.



- 15) Укажите название войны, события которой изображены на марке стрелками. Используя изображение, приведите одно любое обоснование Вашего ответа.

- 16) Какой из представленных ниже памятников архитектуры был создан в период жизни исторического деятеля, изображённого на марке? В ответе запишите цифру, которой обозначен этот памятник архитектуры. Назовите архитектора, который руководил созданием данного памятника архитектуры.



17

Прочтите отрывки из воспоминаний современников.

ФРАГМЕНТЫ ИСТОЧНИКОВ

А)	<p>«На личной карте Паулюса этот дом (на площади 9 Января) был отмечен как крепость. Пленные немецкие разведчики считали, что его обороняет батальон.</p> <p>Об этом доме узнала сначала наша армия, потом вся страна и, наконец, весь мир. На его защитников равнялась, как в строю, вся дивизия, о нём слагались песни и легенды.</p> <p>Как это ни странно, но это четырёхэтажное жилое здание, выстроенное не из какого-либо несокрушимого материала, а из обыкновенной глины, дерева и кирпича, оказавшееся вообще малоустойчивым, вполне заслуживало того, что о нём писали или рассказывали.</p> <p>Да, это был «дом-крепость», его обороняли бойцы, каждый из которых стоил целого отделения, а то и взвода противника, и слава о них не померкнет в веках».</p>
Б)	<p>«Недалеко от вокзала мы встретили комиссара сапёрной части. Радость: комиссар знает, где командный пункт армии. Он и проводил нас до подножия Мамаева кургана.</p> <p>Оставив машину, на курган поднялся пешком, цепляясь в темноте за кусты, за какие-то колочки. Наконец долгожданный окрик часового: – Стой! Кто идёт?</p> <p>Командный пункт. Овраг, свежеврытые щели, блиндажи. Мамаев курган! Мог ли я тогда предполагать, что он станет местом высшего напряжения боёв, что здесь, на этом клочке, не останется ни одного живого места, не перекопанного взрывами снарядов и авиабомб?</p> <p>Вот и блиндаж начальника штаба армии генерал-майора Николая Ивановича Крылова».</p>

Укажите название битвы, к которой относятся оба представленных отрывка. Укажите кодовое название одной любой операции, проведённой Красной армией в ходе этой битвы. Приведите одно любое суждение, которым автор одного из отрывков указывает на высокие боевые качества советских воинов. При ответе избегайте цитирования избыточного текста, не содержащего положений, которые должны быть приведены по условию задания.

18

В 1830–1831 гг. произошло восстание в Царстве Польском, которое было подавлено русскими войсками. Укажите три любых последствия этого восстания.

19

Используя знания по истории России, раскройте смысл понятия «закуп». Приведите один исторический факт, конкретизирующий данное понятие применительно к истории России. Приведённый факт не должен содержаться в данном Вами определении понятия.

20

Запишите один любой тезис (обобщённое оценочное суждение), содержащий информацию о различиях в положении дворянства в периоды правлений Петра I и Екатерины II по какому(-им)-либо признаку(-ам). Приведите два обоснования этого тезиса. Каждое обоснование должно содержать два исторических факта (по одному для каждого из сравниваемых объектов). При обосновании тезиса избегайте рассуждений общего характера.

Ответ оформите в следующем виде.

Тезис: _____

Обоснования тезиса:

1) _____

2) _____

21

В том же десятилетии, когда в России было отменено крепостное право, в США было отменено рабство. Используя исторические знания, приведите аргументы в подтверждение точки зрения, что оба указанных события повлияли на дальнейшую внутреннюю политику правительств в странах, где они произошли: один аргумент для России и один для США. При изложении аргументов обязательно используйте исторические факты. Ответ запишите в следующем виде.

Аргумент для России: _____

Аргумент для США: _____



Проверьте, чтобы каждый ответ был записан рядом с номером соответствующего задания.

Система оценивания экзаменационной работы по истории**Часть 1**

Правильное выполнение каждого из заданий 2, 8–11 оценивается 1 баллом. Задание считается выполненным верно, если ответ записан в той форме, которая указана в инструкции по выполнению задания, и полностью совпадает с эталоном ответа.

Правильное выполнение каждого из заданий 1, 3, 5, 7 оценивается 2 баллами. Задание считается выполненным верно, если ответ записан в той форме, которая указана в инструкции по выполнению задания, и полностью совпадает с эталоном ответа: каждый символ в ответе стоит на своём месте, лишние символы в ответе отсутствуют. 1 балл выставляется, если на любой одной позиции ответа записан не тот символ, который представлен в эталоне ответа. Во всех других случаях выставляется 0 баллов. Если количество символов в ответе больше требуемого, выставляется 0 баллов вне зависимости от того, были ли указаны все необходимые символы.

Правильное выполнение каждого из заданий 6, 12 оценивается 2 баллами. Задание считается выполненным верно, если ответ записан в той форме, которая указана в инструкции по выполнению задания, каждый символ присутствует в ответе, порядок записи символов в ответе значения не имеет, в ответе отсутствуют лишние символы. 1 балл выставляется, если только один из символов, указанных в ответе, не соответствует эталону (в том числе есть один лишний символ наряду с остальными верными) или только один символ отсутствует; во всех других случаях выставляется 0 баллов.

Правильное выполнение задания 4 оценивается 3 баллами. Задание считается выполненным верно, если ответ записан в той форме, которая указана в инструкции по выполнению задания, и полностью совпадает с эталоном ответа: каждый символ в ответе стоит на своём месте, лишние символы в ответе отсутствуют. 2 балла выставляются, если на любой одной позиции ответа записан не тот символ, который представлен в эталоне ответа. 1 балл выставляется, если на любых двух-трёх позициях ответа записаны не те символы, которые представлены в эталоне ответа. Во всех других случаях выставляется 0 баллов. Если количество символов в ответе больше требуемого, выставляется 0 баллов вне зависимости от того, были ли указаны все необходимые символы.

Номер задания	Правильный ответ
1	2653
2	321
3	5314
4	845327
5	4356
6	46
7	4365
8	сорок пятого
9	десятый
10	Святослав
11	Семендер
12	146

Часть 2**Критерии оценивания выполнения заданий с развёрнутым ответом**

Из послания российского монарха.

«Когда же мы Божьей волей с крестоносной хоругвью всего православного христианского воинства ради защиты православных христиан двинулись на Казань, и одержали победу над Казанью, и со всем войском невредимые возвращались восвояси, что могу вспомнить о добре, сделанном нам людьми, которых ты называешь мучениками? А вот что: как пленника, посадив в судно, везли с малым числом людей сквозь безбожную и неверную землю! Если бы рука Всевышнего не защитила меня, смиренного, наверняка бы я жизни лишился.

Когда же вернулись мы в царствующий град Москву, Бог дал нам тогда наследника – сына Дмитрия; когда же, немного времени спустя, я, как бывает с людьми, сильно занемог, то те, кого ты называешь доброжелателями, с попом Сильвестром и вашим начальником Алексеем Адашевым решили, что мы уже в небытии и, забыв наши благодеяния, а того более – души свои и присягу нашему отцу и нам – не искать себе иного государя, кроме наших детей, решили посадить на престол нашего отдалённого родственника князя Владимира, а младенца нашего хотели погубить, подобно Ироду...

Когда же мы, по Божью милосердию, всё узнали и полностью уразумели и замысел этот рассыпался в прах, поп Сильвестр и Алексей Адашев и после этого не перестали жесточайше притеснять нас и давать злые советы, под разными предлогами изгоняли наших доброжелателей, во всём потакали князю Владимиру, преследовали лютой ненавистью нашу царицу Анастасию и уподобляли её всем нечестивым царицам, а про детей наших и вспомнить не желали.

А после этого собака и давний изменник, князь Семён Ростовский, который был принят нами в Думу не за свои достоинства, а по нашей милости, изменнически выдал наши замыслы литовским послам, пану Станиславу Довойне с товарищами, и поносил перед ними нас, нашу царицу и наших детей...»

13

Назовите автора данного документа. Укажите век, в котором он жил. Укажите его бывшего сподвижника, переписка с которым считается выдающимся примером публицистики той эпохи.

Содержание верного ответа и указания по оцениванию (допускаются иные формулировки ответа, не искажающие его смысла)	Баллы
<p>Правильный ответ должен содержать следующие <u>элементы</u>:</p> <p>1) <u>автор</u> – Иван IV (Иван Грозный);</p> <p>2) <u>век</u> – шестнадцатый;</p> <p>3) <u>бывший сподвижник</u> – князь А.М. Курбский.</p> <p><i>Каждый элемент может быть засчитан только при условии отсутствия неверных позиций в этом элементе наряду с верной</i></p>	
Правильно указаны автор, век, бывший сподвижник	2
Правильно указаны любые два элемента	1
Правильно указан один любой элемент.	0
ИЛИ Ответ неправильный	
<i>Максимальный балл</i>	
	2

- 14 Какие обвинения автор выдвигает в адрес своих приближённых в данном документе? Укажите любые три обвинения. При ответе избегайте цитирования избыточного текста, не содержащего положений, которые должны быть приведены по условию задания.

Содержание верного ответа и указания по оцениванию (допускаются иные формулировки ответа, не искажающие его смысла)	Баллы
<p>Могут быть указаны следующие <u>обвинения</u>:</p> <ol style="list-style-type: none"> 1) подвергли опасности его жизнь во время возвращения из Казанского похода; 2) решили посадить на престол князя Владимира, а сына автора – Дмитрия – хотели погубить; 3) давали злые советы; 4) под разными предлогами изгоняли доброжелателей монарха; 5) во всём потакали князю Владимиру Старицкому; 6) преследовали лютой ненавистью царицу Анастасию; 7) выдали планы монарха литовским послам; 8) «поносили перед литовскими послами» царицу, автора и их детей. <p>Ответ может быть представлен как в форме цитат, так и в форме сжатого воспроизведения основных идей соответствующих фрагментов текста.</p> <p><i>Поскольку в задании требуется найти в тексте данную в явном виде конкретную информацию, не засчитывается при оценивании переписанный целиком объёмный отрывок текста, включающий наряду с верным элементом избыточную информацию</i></p>	
Правильно указаны три обвинения	2
Правильно указаны только два обвинения	1
Правильно указано только одно обвинение.	0
ИЛИ Ответ неправильный	
<i>Максимальный балл</i>	2

Рассмотрите изображение и выполните задания 15, 16.





- 15 Укажите название войны, события которой изображены на марке стрелками. Используя изображение, приведите одно любое обоснование Вашего ответа.

Содержание верного ответа и указания по оцениванию (допускаются иные формулировки ответа, не искажающие его смысла)	Баллы
<p>Правильный ответ должен содержать следующие <u>элементы</u>:</p> <ol style="list-style-type: none"> 1) <u>название войны</u> – Гражданская война; 2) <u>обоснование</u>, например: в период жизни М.Н. Тухачевского в районе городов, подписанных на марке, масштабные боевые действия велись только в ходе Гражданской войны. (Может быть приведено другое обоснование.) <p><i>Элемент 1 ответа может быть засчитан только при условии отсутствия неверных позиций в этом элементе наряду с верной</i></p>	
Правильно указано название войны, дано верное обоснование	2
Правильно указано только название войны	1
Название войны указано неправильно / не указано независимо от наличия обоснования	0
<i>Максимальный балл</i>	2

16

Какой из представленных ниже памятников архитектуры был создан в период жизни исторического деятеля, изображённого на марке? В ответе запишите цифру, которой обозначен этот памятник архитектуры. Назовите архитектора, который руководил созданием данного памятника архитектуры.



Содержание верного ответа и указания по оцениванию (допускаются иные формулировки ответа, не искажающие его смысла)	Баллы
Правильный ответ должен содержать следующие <u>элементы</u> : 1) <u>цифра, обозначающая памятник архитектуры</u> – 2; 2) <u>архитектор</u> – А.В. Шусев. <i>Каждый элемент может быть засчитан только при условии отсутствия неверных позиций в этом элементе наряду с верной</i>	
Правильно указаны цифра, архитектор	2
Правильно указана только цифра	1
Цифра указана неправильно / не указана независимо от указания архитектора	0
<i>Максимальный балл</i>	2

17

Прочтите отрывки из воспоминаний современников.

ФРАГМЕНТЫ ИСТОЧНИКОВ

А)	<p>«На личной карте Паулюса этот дом (на площади 9 Января) был отмечен как крепость. Пленные немецкие разведчики считали, что его обороняет батальон.</p> <p>Об этом доме узнала сначала наша армия, потом вся страна и, наконец, весь мир. На его защитников равнялась, как в строю, вся дивизия, о нём слагались песни и легенды.</p> <p>Как это ни странно, но это четырёхэтажное жилое здание, выстроенное не из какого-либо несокрушимого материала, а из обыкновенной глины, дерева и кирпича, оказавшееся вообще малоустойчивым, вполне заслуживало того, что о нём писали или рассказывали.</p> <p>Да, это был «дом-крепость», его обороняли бойцы, каждый из которых стоил целого отделения, а то и взвода противника, и слава о них не померкнет в веках».</p>
Б)	<p>«Недалеко от вокзала мы встретили комиссара сапёрной части. Радость: комиссар знает, где командный пункт армии. Он и проводил нас до подножия Мамаева кургана.</p> <p>Оставив машину, на курган поднялся пешком, цепляясь в темноте за кусты, за какие-то колочки. Наконец долгожданный окрик часового: – Стой! Кто идёт?</p> <p>Командный пункт. Овраг, свежерытые щели, блиндажи. Мамаев курган! Мог ли я тогда предполагать, что он станет местом высшего напряжения боёв, что здесь, на этом клочке, не останется ни одного живого места, не перекопанного взрывами снарядов и авиабомб?</p> <p>Вот и блиндаж начальника штаба армии генерал-майора Николая Ивановича Крылова».</p>

Укажите название битвы, к которой относятся оба представленных отрывка. Укажите кодовое название одной любой операции, проведённой Красной армией в ходе этой битвы. Приведите одно любое суждение, которым автор одного из отрывков указывает на высокие боевые качества советских воинов. При ответе избегайте цитирования избыточного текста, не содержащего положений, которые должны быть приведены по условию задания.

Содержание верного ответа и указания по оцениванию (допускаются иные формулировки ответа, не искажающие его смысла)	Баллы
<p>Правильный ответ должен содержать следующие <u>элементы</u>:</p> <p>1) <u>название битвы</u> – Сталинградская;</p> <p>2) <u>кодовое название операции</u>, например: – «Уран»; – «Кольцо»; (Может быть указано название другой операции.)</p> <p>3) <u>суждение</u>, например: – пленные немецкие разведчики считали, что дом обороняет батальон; – на защитников дома «равнялась, как в строю, вся дивизия, о нём слагались песни и легенды»; – дом обороняли бойцы, «каждый из которых стоил целого отделения, а то и взвода противника».</p> <p><i>Каждый из элементов 1 и 2 ответа может быть засчитан только при условии отсутствия неверных позиций в этом элементе наряду с верной. Элемент ответа 3 может быть представлен как в форме цитат, так и в форме сжатого воспроизведения основных идей соответствующего фрагмента текста. Поскольку в задании требуется найти в тексте данную в явном виде конкретную информацию, не засчитывается при оценивании элемента 3 ответа переписанный целиком объёмный отрывок текста, включающий наряду с верным элементом избыточную информацию</i></p>	
Правильно указаны название битвы, кодовое название операции, приведено суждение	3
Правильно указаны только два элемента	2
Правильно указан только один элемент	1
Приведены рассуждения общего характера, не соответствующие требованию задания. ИЛИ Ответ неправильный	0
<i>Максимальный балл</i>	3

18

В 1830–1831 гг. произошло восстание в Царстве Польском, которое было подавлено русскими войсками. Укажите три любых последствия этого восстания.

Содержание верного ответа и указания по оцениванию (допускаются иные формулировки ответа, не искажающие его смысла)	Баллы
<p>Могут быть названы следующие <u>последствия</u>:</p> <p>1) провозглашение Царства Польского нераздельной частью Российской империи;</p> <p>2) упразднение польского сейма;</p> <p>3) замена старого административного деления Царства Польского на воеводства делением на губернии;</p> <p>4) закрытие Варшавского и Виленского университетов;</p> <p>5) строительство около Варшавы Александровской цитадели, орудия которой держали под постоянным прицелом польскую столицу;</p> <p>6) написание А.С. Пушкиным, в ответ на выступления депутатов во Франции с требованиями оказать помощь польскому народу, патриотического стихотворения «Клеветникам России».</p> <p>Могут быть названы другие последствия.</p> <p><i>Если в ответе наряду с требуемым количеством элементов приведены дополнительные (сверх требуемого в условии задания количества) элементы, являющиеся ошибочными, то при оценивании действует следующее правило:</i></p> <p>– если среди дополнительных элементов ошибочными являются два или более, то за ответ выставляется 0 баллов;</p> <p>– если среди дополнительных элементов ошибочным является один, то за ответ выставляется на 1 балл ниже фактического по критериям</p>	
Правильно названы три последствия	3
Правильно названы два последствия	2
Правильно названо только одно последствие	1
Приведены рассуждения общего характера, не соответствующие требованию задания. ИЛИ Ответ неправильный	0
<i>Максимальный балл</i>	3

19

Используя знания по истории России, раскройте смысл понятия «закуп». Приведите один исторический факт, конкретизирующий данное понятие применительно к истории России. Приведённый факт не должен содержаться в данном Вами определении понятия.

Содержание верного ответа и указания по оцениванию (допускаются иные формулировки ответа, не искажающие его смысла)	Баллы
<p>Правильный ответ должен содержать следующие <u>элементы</u>:</p> <p>1) <u>смысл понятия</u>, например: человек, получивший от землевладельца ссуду и из-за этого попавший к нему в зависимость; (Смысл понятия может быть приведён в иной, близкой по смыслу формулировке.)</p> <p>2) <u>факт</u>, например: – правовое положение закупа определялось согласно Русской Правде; – превращение закупа в полного холопа могло наступить и в случае совершения им кражи независимо от размера стоимости украденного. (Может быть приведён другой факт.) <i>Элемент 2 ответа (факт) может быть засчитан только при условии отсутствия неверных позиций в этом элементе наряду с верной</i></p>	
Правильно раскрыт смысл понятия (содержание понятия корректно раскрыто через родовую принадлежность понятия и, если это необходимо, его видовое(-ые) отличие(-я)), приведён один исторический факт, конкретизирующий данное понятие	2
Правильно раскрыт смысл понятия (содержание понятия корректно раскрыто через родовую принадлежность понятия и, если это необходимо, его видовое(-ые) отличие(-я)), но исторический факт, конкретизирующий данное понятие, приведён неправильно / не приведён / содержится в приведённом определении понятия. ИЛИ Смысл понятия не раскрыт / раскрыт неправильно; приведён один исторический факт, конкретизирующий данное понятие	1
Смысл понятия не раскрыт / раскрыт неправильно; исторический факт, конкретизирующий данное понятие, приведён неправильно / не приведён. ИЛИ Приведены рассуждения общего характера, не соответствующие требованию задания	0
<i>Максимальный балл</i>	2

20

Запишите один любой тезис (обобщённое оценочное суждение), содержащий информацию о различиях в положении дворянства в периоды правлений Петра I и Екатерины II по какому(-им)-либо признаку(-ам). Приведите два обоснования этого тезиса. Каждое обоснование должно содержать два исторических факта (по одному для каждого из сравниваемых объектов). При обосновании тезиса избегайте рассуждений общего характера.

Ответ оформите в следующем виде.

Тезис: _____

Обоснования тезиса:

1) _____

2) _____

Содержание верного ответа и указания по оцениванию (допускаются иные формулировки ответа, не искажающие его смысла)	Баллы
<p>Правильный ответ должен содержать следующие <u>элементы</u>:</p> <p>1) <u>тезис</u>, например: в период правления Екатерины II дворянство стало более привилегированным сословием по сравнению с периодом правления Петра I; (Может быть сформулирован другой тезис.)</p> <p>2) <u>обоснования</u>, например (для приведённого выше тезиса): – в период правления Петра I дворянство было обязано служить, а в период правления Екатерины II дворянство было освобождено от обязательной службы; – в период правления Петра I организации дворянского самоуправления отсутствовали, а в период правления Екатерины II были учреждены дворянские собрания. Могут быть приведены другие исторически корректные обоснования. <i>При оценивании засчитываются только обоснования, содержащие два исторических факта (по одному для каждого из сравниваемых объектов). В качестве исторических фактов не принимаются указания на совокупность событий (например: «было одержано несколько побед»)</i></p>	

Правильно сформулирован тезис, приведено два исторически корректных обоснования (каждое содержит два исторических факта, по одному для каждого из сравниваемых объектов)	3
Правильно сформулирован тезис, приведено только одно исторически корректное обоснование, содержащее два исторических факта (по одному для каждого из сравниваемых объектов). ИЛИ Правильно сформулирован тезис, приведено два обоснования (каждое содержит два исторических факта, по одному для каждого из сравниваемых объектов); обоснование(-я) содержит(-ат) неточность(-и), существенно не искажающую(-ие) содержание ответа	2
Правильно сформулирован тезис, приведено только одно обоснование, содержащее два исторических факта (по одному для каждого из сравниваемых объектов); обоснование содержит неточность(-и), существенно не искажающую(-ие) содержание ответа. ИЛИ Тезис сформулирован неверно или не сформулирован (в том числе вместо тезиса приведено суждение типа: «различие в том, что сравниваемые объекты разные») / тезис как результат сравнения подменён рассуждениями общего характера, приведено не менее одного исторически корректного суждения, содержащего два исторических факта (по одному для каждого из сравниваемых объектов), позволяющих сравнить отдельные аспекты указанных в задании объектов. ИЛИ Правильно сформулирован тезис, приведено не менее одного исторически корректного суждения, содержащего два исторических факта (по одному для каждого из сравниваемых объектов), позволяющих сравнить отдельные аспекты указанных в задании объектов; ни одно из приведённых суждений не обосновывает тезис	1
Все иные ситуации, не соответствующие правилам выставления 3, 2 и 1 балла. ИЛИ Ответ неправильный	0
<i>Максимальный балл</i>	3

21

В том же десятилетии, когда в России было отменено крепостное право, в США было отменено рабство. Используя исторические знания, приведите аргументы в подтверждение точки зрения, что оба указанных события повлияли на дальнейшую внутреннюю политику правительств в странах, где они произошли: один аргумент для России и один для США. При изложении аргументов обязательно используйте исторические факты. Ответ запишите в следующем виде.

Аргумент для России: _____

Аргумент для США: _____

Содержание верного ответа и указания по оцениванию (допускаются иные формулировки ответа, не искажающие его смысла)	Баллы
Правильный ответ должен содержать аргументы : 1) для России , например: с отменой крепостного права крестьяне перестали находиться под опекой помещиков, которые ими ранее владели, и у правительства возникла необходимость создания органов местного самоуправления, которые бы управляли хозяйственными делами в соответствии с социально-экономической обстановкой в каждом регионе страны; была проведена земская реформа; 2) для США , например: после отмены рабства в США бывшие плантаторы-рабовладельцы пытались вернуть свою власть над бывшими рабами, для чего в южных штатах ими были приняты «чёрные кодексы», которые почти полностью воспроизводили действовавшие до Гражданской войны законы о рабах; Конгрессом США был принят закон, отменявший «чёрные кодексы», власти США приступили к «радикальной реконструкции Юга», целью которой было не допустить возвращения рабства. Могут быть приведены другие аргументы	
Приведены по одному аргументу для России и США	3
Приведён только один аргумент для России. ИЛИ Приведён только один аргумент для США	2
Аргумент(ы) не сформулирован(ы); приведено не менее двух фактов, возможность использования которых для аргументации очевидна	1
Аргумент(ы) не сформулирован(ы); приведён один факт, который может быть использован для аргументации. ИЛИ Приведены рассуждения общего характера, не соответствующие требованию задания. ИЛИ Ответ неправильный	0
<i>Максимальный балл</i>	3

В соответствии с Порядком проведения государственной итоговой аттестации по образовательным программам среднего общего образования (приказ Минпросвещения России и Рособрнадзора от 07.11.2018 № 190/1512, зарегистрирован Минюстом России 10.12.2018 № 52952)

«82. <...> По результатам первой и второй проверок эксперты независимо друг от друга выставляют баллы за каждый ответ на задания экзаменационной работы ЕГЭ с развёрнутым ответом. <...>

В случае существенного расхождения в баллах, выставленных двумя экспертами, назначается третья проверка. Существенное расхождение в баллах определено в критериях оценивания по соответствующему учебному предмету.

Эксперту, осуществляющему третью проверку, предоставляется информация о баллах, выставленных экспертами, ранее проверявшими экзаменационную работу».

1. Существенным считается расхождение в баллах, выставленных двумя экспертами за выполнение любого из заданий 13–21, которое составляет 2 или более балла. В этом случае третий эксперт проверяет только те ответы на задания 13–21, которые были оценены со столь существенным расхождением.

2. Расхождение в результатах оценивания двумя экспертами ответа на одно из заданий 13–21 заключается в том, что один эксперт указал на отсутствие ответа на задание, а другой выставил за выполнение этого задания ненулевой балл. В этом случае третий эксперт проверяет только ответы на задания (по всем критериям оценивания данного задания), которые были оценены со столь существенным расхождением. Ситуации, в которых один эксперт указал на отсутствие ответа в экзаменационной работе, а второй эксперт выставил нулевой балл за выполнение этого задания, не являются ситуациями существенного расхождения в оценивании.